




Керамическая плитка одной и той же торговой марки выпускается трёх разных размеров. Плитки упакованы в пачки. Пользуясь данными таблицы, определите, в каком случае цена одного квадратного метра плитки будет наименьшей.

Размер плитки (см  times см)	Количество плиток в пачке	Цена пачки
30  times 30	11	504 р. 90 к.
30  times 40	9	540 р.
20  times 20	25	520 р.

В ответ запишите найденную наименьшую цену квадратного метра в рублях.