







На рисунке изображён график функции  $y=F(x)$ — одной из первообразных некоторой функции  $f(x)$, определённой на интервале  $(-3;5)$. Пользуясь рисунком, определите количество решений уравнения  $f(x)=0$ на отрезке  $[-2;4]$.

 b8_1_11.0.eps