









В кубе  ABCDA_1B_1C_1D_1 точка  K — середина ребра  BC, точка  L — середина ребра  CD, точка  M — середина ребра  CC_1. Найдите угол  MLK. Ответ дайте в градусах.