










В кубе  ABCDA₁B₁C₁D₁ точка  K — середина ребра 
 BC, точка  L — середина ребра  CD, точка  M — середина ребра  CC₁. Найдите угол  MLK. Ответ дайте в градусах.