






Две стороны прямоугольника  ABCD равны 6 и 8. Диагонали пересекаются в точке  O. Найдите длину разности векторов  \overrightarrow{AO} и  \overrightarrow{BO} .

 МА.ОБ10.В6.142/innerimg0.jpg