





Две стороны прямоугольника  ABCD равны 6 и 8. Диагонали пересекаются в точке О. Найдите длину разности векторов  \overrightarrow{AO} , и  \overrightarrow{BO} .

 МА.ОБ10.В6.142/innerimg0.jpg