







Точки  $O(0, 0)$,  $A(10, 8)$,  $B(8, 2)$ и  C являются вершинами параллелограмма. Найдите ординату точки  C .

 МА.ОБ10.В6.108/innerimg0.jpg