






Точки  $O(0, 0)$,  $A(6, 8)$,  $B(6, 2)$ и  C являются вершинами параллелограмма. Найдите ординату точки

 МА.ОБ10.В6.102/innerimg0.jpg