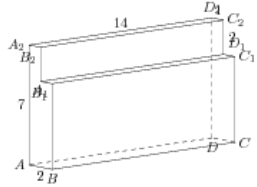


Задания

Задание 8 № 276027

Найдите расстояние между вершинами A_2 и C_1 многогранника, изображенного на рисунке. Все двугранные углы многогранника прямые.

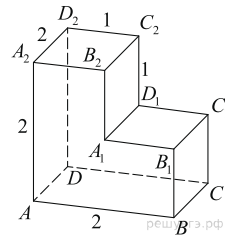
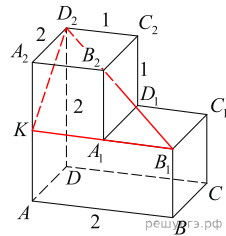


Решение.

Это задание ещё не решено, приводим решение прототипа.

На рисунке изображён многогранник, все двугранные углы многогранника прямые. Найдите расстояние между вершинами B_1 и D_2 .

Рассмотрим прямоугольный треугольник KD_2B_1 . По теореме Пифагора



$$D_2B_1 = \sqrt{KD_2^2 + KB_1^2} = \sqrt{KB_1^2 + KA_2^2 + A_2D_2^2} = \sqrt{4+1+4} = 3.$$

Ответ: 3.

[Прототип задания](#)