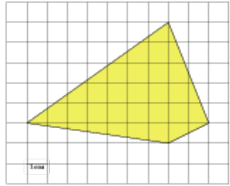


## Задания

№ [256713](#)

Найдите площадь четырехугольника, изображенного на клетчатой бумаге с размером клетки 1 см × 1 см (см. рис.). Ответ дайте в квадратных сантиметрах.



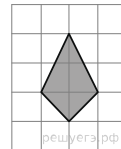
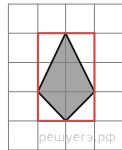
**Решение.**

Это задание ещё не решено, приводим решение [прототипа](#).

Найдите площадь четырехугольника, изображенного на клетчатой бумаге с размером клетки 1 см × 1 см (см. рис.). Ответ дайте в квадратных сантиметрах.

Площадь четырёхугольника равна разности площади большого квадрата четырех прямоугольных треугольников, гипотенузы которых являются сторонами исходного треугольника. Поэтому

$$S = 2 \cdot 3 - \frac{1}{2} \cdot 2 \cdot 1 - \frac{1}{2} \cdot 2 \cdot 1 - \frac{1}{2} \cdot 1 \cdot 1 - \frac{1}{2} \cdot 1 \cdot 1 = 3 \text{ см}^2.$$



**Примечание.**

Площадь четырёхугольника, диагонали которого перпендикулярны, равна половине произведения диагоналей. Поэтому искомая площадь равна 3.

[Прототип задания](#)