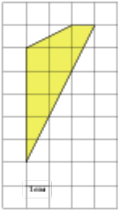


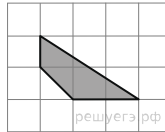
Задания№ [254989](#)

Найдите площадь четырехугольника, изображенного на клетчатой бумаге с размером клетки 1 см × 1 см (см. рис.). Ответ дайте в квадратных сантиметрах.

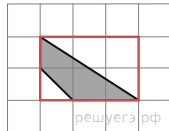
**Решение.**

Это задание ещё не решено, приводим решение [прототипа](#).

Найдите площадь четырехугольника, изображенного на клетчатой бумаге с размером клетки 1 см × 1 см (см. рис.). Ответ дайте в квадратных сантиметрах.



Площадь четырехугольника равна разности площади большого прямоугольного треугольника и маленького прямоугольного треугольника, гипотенуза которого является стороной исходного четырехугольника. Поэтому



$$S = \frac{1}{2} \cdot 2 \cdot 3 - \frac{1}{2} \cdot 1 \cdot 1 = 2,5 \text{ см}^2.$$

Ответ: 2,5.

[Прототип задания](#)