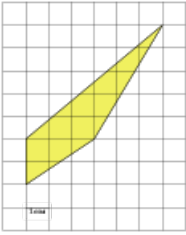


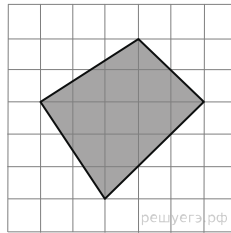
Задания№ [249149](#)

Найдите площадь четырехугольника, изображенного на клетчатой бумаге с размером клетки 1 см × 1 см (см. рис.). Ответ дайте в квадратных сантиметрах.

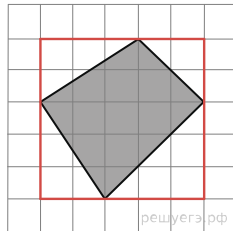
**Решение.**

Это задание ещё не решено, приводим решение прототипа.

Найдите площадь четырехугольника, изображенного на клетчатой бумаге с размером клетки 1 см × 1 см (см. рис.). Ответ дайте в квадратных сантиметрах.



Площадь четырехугольника равна разности площади прямоугольника и четырех прямоугольных треугольников, гипотенузы которых являются сторонами исходного четырехугольника.



Поэтому

$$S = 5 \cdot 5 - \frac{1}{2} \cdot 2 \cdot 3 - \frac{1}{2} \cdot 3 \cdot 3 - \frac{1}{2} \cdot 2 \cdot 2 - \frac{1}{2} \cdot 2 \cdot 3 = 12,5 \text{ см}^2.$$

Ответ: 12,5.

[Прототип задания](#)