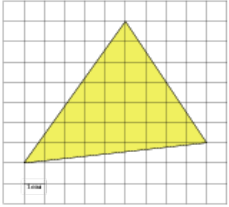


Задания

Задание 3 № 248195

Найдите площадь треугольника, изображенного на клетчатой бумаге с размером клетки 1 см × 1 см (см. рис.). Ответ дайте в квадратных сантиметрах.



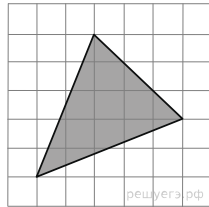
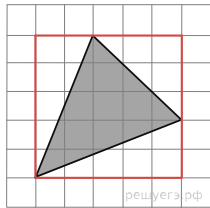
Решение.

Это задание ещё не решено, приводим решение прототипа.

Найдите площадь треугольника, изображенного на клетчатой бумаге с размером клетки 1 см × 1 см (см. рис.). Ответ дайте в квадратных сантиметрах.

Площадь треугольника равна разности площади прямоугольника и трех прямоугольных треугольников, гипотенузы которых являются сторонами исходного треугольника. Поэтому

$$S = 5 \cdot 5 - \frac{1}{2} \cdot 2 \cdot 5 - \frac{1}{2} \cdot 3 \cdot 3 - \frac{1}{2} \cdot 2 \cdot 5 = 10,5 \text{ см}^2.$$



Ответ: 10,5.

[Прототип задания](#)