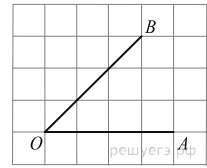
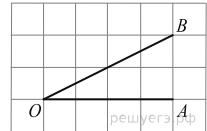


**Варианты заданий**

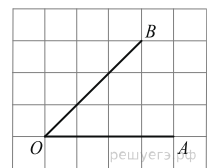
1.

На клетчатой бумаге с размером клетки  $1 \times 1$  изображён угол. Найдите тангенс этого угла.

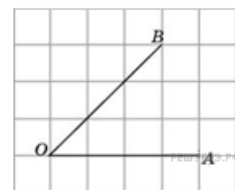
2.

На клетчатой бумаге с размером клетки  $1 \times 1$  изображён угол. Найдите тангенс этого угла.

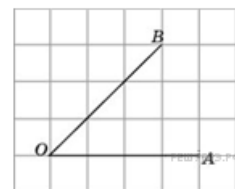
3.

На клетчатой бумаге с размером клетки  $1 \times 1$  изображён угол. Найдите тангенс этого угла.

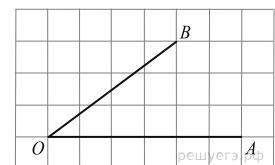
4.

Найдите синус угла  $AOB$ . В ответе укажите значение синуса, умноженное на  $2\sqrt{2}$ .

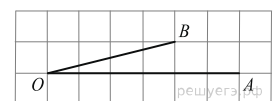
5.

Найдите косинус угла  $AOB$ . В ответе укажите значение косинуса, умноженное на  $2\sqrt{2}$ .

6.

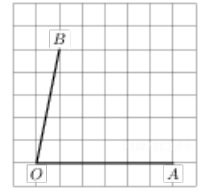
На клетчатой бумаге с размером клетки  $1 \times 1$  изображён угол. Найдите тангенс этого угла.

7.

На клетчатой бумаге с размером клетки  $1 \times 1$  изображён угол. Найдите тангенс этого угла.

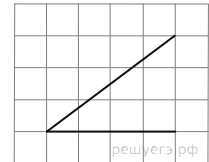
8.

На клетчатой бумаге с размером клетки  $1 \times 1$  изображён угол. Найдите тангенс этого угла.



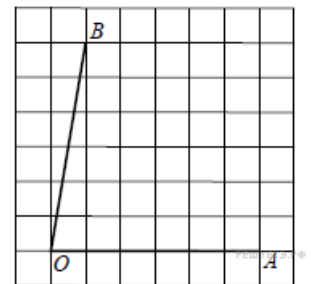
9.

На клетчатой бумаге с размером клетки  $1 \times 1$  изображён угол. Найдите синус этого угла.



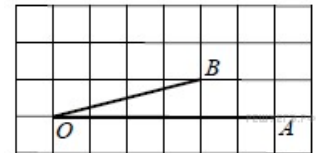
10.

На клетчатой бумаге с размером клетки  $1 \times 1$  изображён угол. Найдите тангенс этого угла.



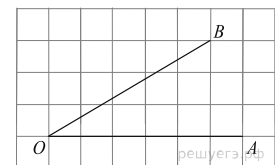
11.

На клетчатой бумаге с размером клетки  $1 \times 1$  изображён угол. Найдите тангенс этого угла.



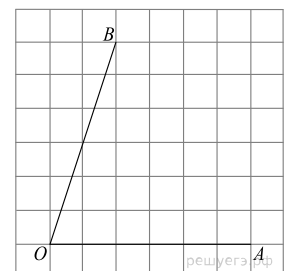
12.

На клетчатой бумаге с размером клетки  $1 \times 1$  изображён угол. Найдите тангенс этого угла.



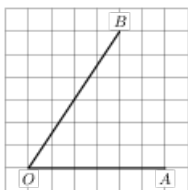
13.

На клетчатой бумаге с размером клетки  $1 \times 1$  изображён угол. Найдите тангенс этого угла.



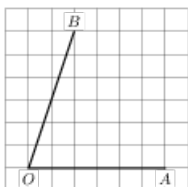
14.

На клетчатой бумаге с размером клетки  $1 \times 1$  изображён угол. Найдите тангенс этого угла.



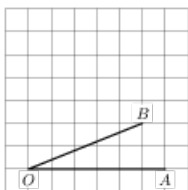
15.

На клетчатой бумаге с размером клетки  $1 \times 1$  изображён угол. Найдите тангенс этого угла.



16.

На клетчатой бумаге с размером клетки  $1 \times 1$  изображён угол. Найдите тангенс этого угла.



17.

На клетчатой бумаге с размером клетки  $1 \times 1$  изображён угол. Найдите тангенс этого угла.

