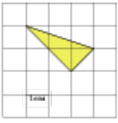



1.

Найдите площадь треугольника, изображенного на клетчатой бумаге с размером клетки $1\text{ см} \times 1\text{ см}$ (см.рис.). Ответ дайте в квадратных сантиметрах.



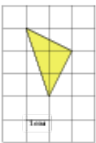
2.

Найдите площадь треугольника, изображенного на клетчатой бумаге с размером клетки $1\text{ см} \times 1\text{ см}$ (см.рис.). Ответ дайте в квадратных сантиметрах.




3.

Найдите площадь треугольника, изображенного на клетчатой бумаге с размером клетки $1\text{ см} \times 1\text{ см}$ (см.рис.). Ответ дайте в квадратных сантиметрах.



4.

Найдите площадь треугольника, изображенного на клетчатой бумаге с размером клетки $1\text{ см} \times 1\text{ см}$ (см.рис.). Ответ дайте в квадратных сантиметрах.



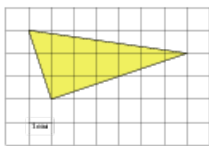
5.

Найдите площадь треугольника, изображенного на клетчатой бумаге с размером клетки $1\text{ см} \times 1\text{ см}$ (см.рис.). Ответ дайте в квадратных сантиметрах.



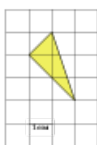
6.

Найдите площадь треугольника, изображенного на клетчатой бумаге с размером клетки $1\text{ см} \times 1\text{ см}$ (см.рис.). Ответ дайте в квадратных сантиметрах.



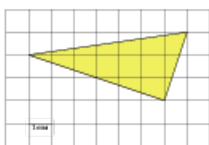
7.

Найдите площадь треугольника, изображенного на клетчатой бумаге с размером клетки $1\text{ см} \times 1\text{ см}$ (см.рис.). Ответ дайте в квадратных сантиметрах.



8.

Найдите площадь треугольника, изображенного на клетчатой бумаге с размером клетки $1\text{ см} \times 1\text{ см}$ (см.рис.). Ответ дайте в квадратных сантиметрах.



9.

Найдите площадь треугольника, изображенного на клетчатой бумаге с размером клетки $1\text{ см} \times 1\text{ см}$ (см.рис.). Ответ дайте в квадратных сантиметрах.



10.

Найдите площадь треугольника, изображенного на клетчатой бумаге с размером клетки $1\text{ см} \times 1\text{ см}$ (см.рис.). Ответ дайте в квадратных сантиметрах.



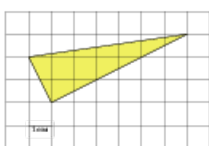
11.

Найдите площадь треугольника, изображенного на клетчатой бумаге с размером клетки $1\text{ см} \times 1\text{ см}$ (см.рис.). Ответ дайте в квадратных сантиметрах.



12.

Найдите площадь треугольника, изображенного на клетчатой бумаге с размером клетки $1\text{ см} \times 1\text{ см}$ (см.рис.). Ответ дайте в квадратных сантиметрах.



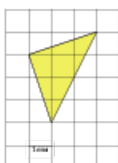
13.

Найдите площадь треугольника, изображенного на клетчатой бумаге с размером клетки $1\text{ см} \times 1\text{ см}$ (см.рис.). Ответ дайте в квадратных сантиметрах.



14.

Найдите площадь треугольника, изображенного на клетчатой бумаге с размером клетки $1\text{ см} \times 1\text{ см}$ (см.рис.). Ответ дайте в квадратных сантиметрах.



15.

Найдите площадь треугольника, изображенного на клетчатой бумаге с размером клетки $1\text{ см} \times 1\text{ см}$ (см.рис.). Ответ дайте в квадратных сантиметрах.



16.

Найдите площадь треугольника, изображенного на клетчатой бумаге с размером клетки $1\text{ см} \times 1\text{ см}$ (см.рис.). Ответ дайте в квадратных сантиметрах.



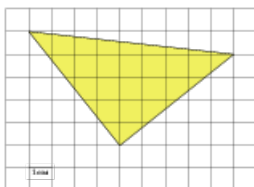
17.

Найдите площадь треугольника, изображенного на клетчатой бумаге с размером клетки $1\text{ см} \times 1\text{ см}$ (см.рис.). Ответ дайте в квадратных сантиметрах.



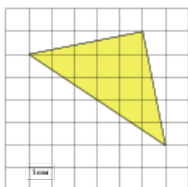
18.

Найдите площадь треугольника, изображенного на клетчатой бумаге с размером клетки $1\text{ см} \times 1\text{ см}$ (см.рис.). Ответ дайте в квадратных сантиметрах.



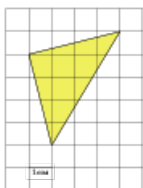
19.

Найдите площадь треугольника, изображенного на клетчатой бумаге с размером клетки $1\text{ см} \times 1\text{ см}$ (см.рис.). Ответ дайте в квадратных сантиметрах.



20.

Найдите площадь треугольника, изображенного на клетчатой бумаге с размером клетки $1\text{ см} \times 1\text{ см}$ (см.рис.). Ответ дайте в квадратных сантиметрах.




21.

Найдите площадь треугольника, изображенного на клетчатой бумаге с размером клетки $1\text{ см} \times 1\text{ см}$ (см.рис.). Ответ дайте в квадратных сантиметрах.



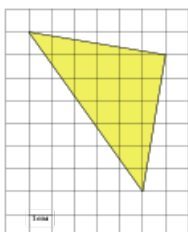
22.

Найдите площадь треугольника, изображенного на клетчатой бумаге с размером клетки $1\text{ см} \times 1\text{ см}$ (см.рис.). Ответ дайте в квадратных сантиметрах.



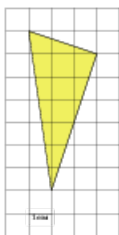
23.

Найдите площадь треугольника, изображенного на клетчатой бумаге с размером клетки $1\text{ см} \times 1\text{ см}$ (см.рис.). Ответ дайте в квадратных сантиметрах.



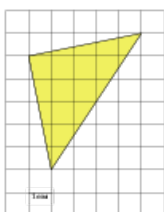
24.

Найдите площадь треугольника, изображенного на клетчатой бумаге с размером клетки $1\text{ см} \times 1\text{ см}$ (см.рис.). Ответ дайте в квадратных сантиметрах.




25.

Найдите площадь треугольника, изображенного на клетчатой бумаге с размером клетки $1\text{ см} \times 1\text{ см}$ (см.рис.). Ответ дайте в квадратных сантиметрах.



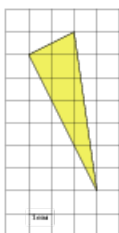
26.

Найдите площадь треугольника, изображенного на клетчатой бумаге с размером клетки $1\text{ см} \times 1\text{ см}$ (см.рис.). Ответ дайте в квадратных сантиметрах.



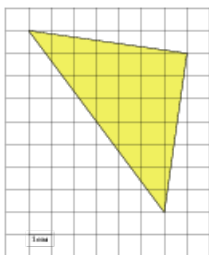
27.

Найдите площадь треугольника, изображенного на клетчатой бумаге с размером клетки $1\text{ см} \times 1\text{ см}$ (см.рис.). Ответ дайте в квадратных сантиметрах.



28.

Найдите площадь треугольника, изображенного на клетчатой бумаге с размером клетки $1\text{ см} \times 1\text{ см}$ (см.рис.). Ответ дайте в квадратных сантиметрах.



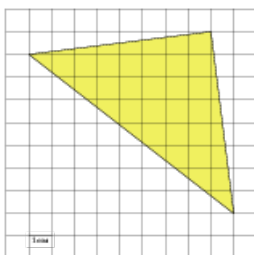
29.

Найдите площадь треугольника, изображенного на клетчатой бумаге с размером клетки $1\text{ см} \times 1\text{ см}$ (см.рис.). Ответ дайте в квадратных сантиметрах.



30.

Найдите площадь треугольника, изображенного на клетчатой бумаге с размером клетки $1\text{ см} \times 1\text{ см}$ (см.рис.). Ответ дайте в квадратных сантиметрах.



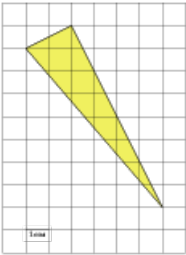
31.

Найдите площадь треугольника, изображенного на клетчатой бумаге с размером клетки $1\text{ см} \times 1\text{ см}$ (см.рис.). Ответ дайте в квадратных сантиметрах.



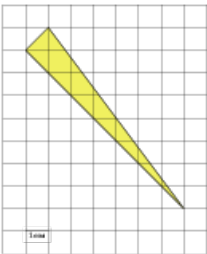
32.

Найдите площадь треугольника, изображенного на клетчатой бумаге с размером клетки $1\text{ см} \times 1\text{ см}$ (см.рис.). Ответ дайте в квадратных сантиметрах.



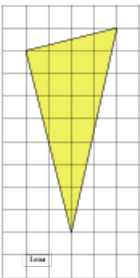
33.

Найдите площадь треугольника, изображенного на клетчатой бумаге с размером клетки $1\text{ см} \times 1\text{ см}$ (см.рис.). Ответ дайте в квадратных сантиметрах.



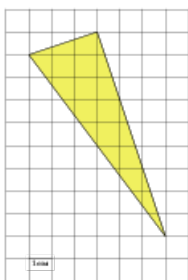
34.

Найдите площадь треугольника, изображенного на клетчатой бумаге с размером клетки $1\text{ см} \times 1\text{ см}$ (см.рис.). Ответ дайте в квадратных сантиметрах.



35.

Найдите площадь треугольника, изображенного на клетчатой бумаге с размером клетки $1\text{ см} \times 1\text{ см}$ (см.рис.). Ответ дайте в квадратных сантиметрах.



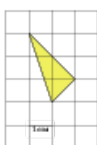
36.

Найдите площадь треугольника, изображенного на клетчатой бумаге с размером клетки $1\text{ см} \times 1\text{ см}$ (см.рис.). Ответ дайте в квадратных сантиметрах.



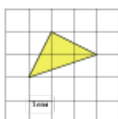
37.

Найдите площадь треугольника, изображенного на клетчатой бумаге с размером клетки $1\text{ см} \times 1\text{ см}$ (см.рис.). Ответ дайте в квадратных сантиметрах.



38.

Найдите площадь треугольника, изображенного на клетчатой бумаге с размером клетки $1\text{ см} \times 1\text{ см}$ (см.рис.). Ответ дайте в квадратных сантиметрах.



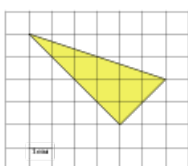
39.

Найдите площадь треугольника, изображенного на клетчатой бумаге с размером клетки $1\text{ см} \times 1\text{ см}$ (см.рис.). Ответ дайте в квадратных сантиметрах.



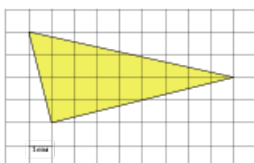
40.

Найдите площадь треугольника, изображенного на клетчатой бумаге с размером клетки $1\text{ см} \times 1\text{ см}$ (см.рис.). Ответ дайте в квадратных сантиметрах.



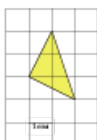
41.

Найдите площадь треугольника, изображенного на клетчатой бумаге с размером клетки $1\text{ см} \times 1\text{ см}$ (см.рис.). Ответ дайте в квадратных сантиметрах.



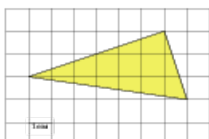
42.

Найдите площадь треугольника, изображенного на клетчатой бумаге с размером клетки $1\text{ см} \times 1\text{ см}$ (см.рис.). Ответ дайте в квадратных сантиметрах.



43.

Найдите площадь треугольника, изображенного на клетчатой бумаге с размером клетки $1\text{ см} \times 1\text{ см}$ (см.рис.). Ответ дайте в квадратных сантиметрах.



44.

Найдите площадь треугольника, изображенного на клетчатой бумаге с размером клетки $1\text{ см} \times 1\text{ см}$ (см.рис.). Ответ дайте в квадратных сантиметрах.



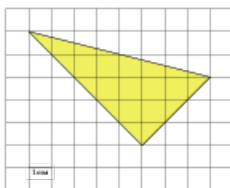
45.

Найдите площадь треугольника, изображенного на клетчатой бумаге с размером клетки $1\text{ см} \times 1\text{ см}$ (см.рис.). Ответ дайте в квадратных сантиметрах.



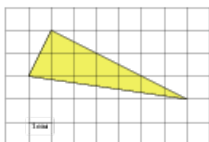
46.

Найдите площадь треугольника, изображенного на клетчатой бумаге с размером клетки $1\text{ см} \times 1\text{ см}$ (см.рис.). Ответ дайте в квадратных сантиметрах.



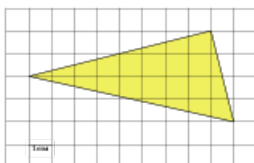
47.

Найдите площадь треугольника, изображенного на клетчатой бумаге с размером клетки $1\text{ см} \times 1\text{ см}$ (см.рис.). Ответ дайте в квадратных сантиметрах.



48.

Найдите площадь треугольника, изображенного на клетчатой бумаге с размером клетки $1\text{ см} \times 1\text{ см}$ (см.рис.). Ответ дайте в квадратных сантиметрах.



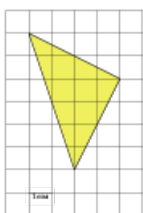
49.

Найдите площадь треугольника, изображенного на клетчатой бумаге с размером клетки $1\text{ см} \times 1\text{ см}$ (см.рис.). Ответ дайте в квадратных сантиметрах.



50.

Найдите площадь треугольника, изображенного на клетчатой бумаге с размером клетки $1\text{ см} \times 1\text{ см}$ (см.рис.). Ответ дайте в квадратных сантиметрах.



51.

Найдите площадь треугольника, изображенного на клетчатой бумаге с размером клетки $1\text{ см} \times 1\text{ см}$ (см.рис.). Ответ дайте в квадратных сантиметрах.



52.

Найдите площадь треугольника, изображенного на клетчатой бумаге с размером клетки $1\text{ см} \times 1\text{ см}$ (см.рис.). Ответ дайте в квадратных сантиметрах.



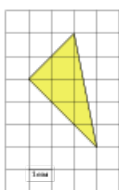
53.

Найдите площадь треугольника, изображенного на клетчатой бумаге с размером клетки $1\text{ см} \times 1\text{ см}$ (см.рис.). Ответ дайте в квадратных сантиметрах.



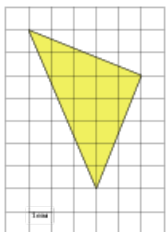
54.

Найдите площадь треугольника, изображенного на клетчатой бумаге с размером клетки $1\text{ см} \times 1\text{ см}$ (см.рис.). Ответ дайте в квадратных сантиметрах.



55.

Найдите площадь треугольника, изображенного на клетчатой бумаге с размером клетки $1\text{ см} \times 1\text{ см}$ (см.рис.). Ответ дайте в квадратных сантиметрах.



56.

Найдите площадь треугольника, изображенного на клетчатой бумаге с размером клетки $1\text{ см} \times 1\text{ см}$ (см.рис.). Ответ дайте в квадратных сантиметрах.



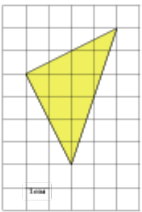
57.

Найдите площадь треугольника, изображенного на клетчатой бумаге с размером клетки $1\text{ см} \times 1\text{ см}$ (см.рис.). Ответ дайте в квадратных сантиметрах.



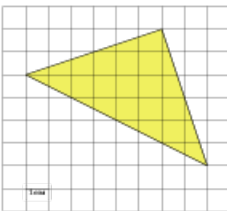
58.

Найдите площадь треугольника, изображенного на клетчатой бумаге с размером клетки $1\text{ см} \times 1\text{ см}$ (см.рис.). Ответ дайте в квадратных сантиметрах.



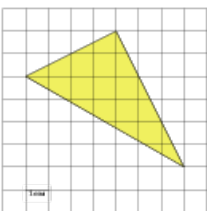
59.

Найдите площадь треугольника, изображенного на клетчатой бумаге с размером клетки $1\text{ см} \times 1\text{ см}$ (см.рис.). Ответ дайте в квадратных сантиметрах.



60.

Найдите площадь треугольника, изображенного на клетчатой бумаге с размером клетки $1\text{ см} \times 1\text{ см}$ (см.рис.). Ответ дайте в квадратных сантиметрах.



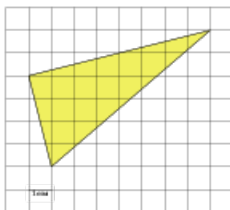
61.

Найдите площадь треугольника, изображенного на клетчатой бумаге с размером клетки $1\text{ см} \times 1\text{ см}$ (см.рис.). Ответ дайте в квадратных сантиметрах.



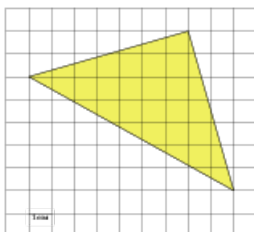
62.

Найдите площадь треугольника, изображенного на клетчатой бумаге с размером клетки $1\text{ см} \times 1\text{ см}$ (см.рис.). Ответ дайте в квадратных сантиметрах.



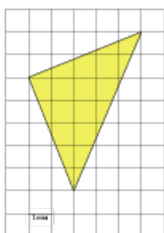
63.

Найдите площадь треугольника, изображенного на клетчатой бумаге с размером клетки $1\text{ см} \times 1\text{ см}$ (см.рис.). Ответ дайте в квадратных сантиметрах.



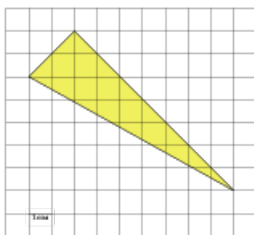
64.

Найдите площадь треугольника, изображенного на клетчатой бумаге с размером клетки $1\text{ см} \times 1\text{ см}$ (см.рис.). Ответ дайте в квадратных сантиметрах.



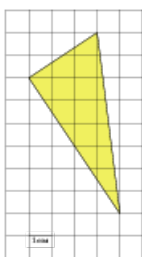
65.

Найдите площадь треугольника, изображенного на клетчатой бумаге с размером клетки $1\text{ см} \times 1\text{ см}$ (см.рис.). Ответ дайте в квадратных сантиметрах.



66.

Найдите площадь треугольника, изображенного на клетчатой бумаге с размером клетки $1\text{ см} \times 1\text{ см}$ (см.рис.). Ответ дайте в квадратных сантиметрах.



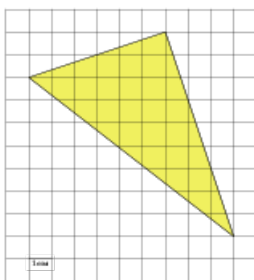
67.

Найдите площадь треугольника, изображенного на клетчатой бумаге с размером клетки $1\text{ см} \times 1\text{ см}$ (см.рис.). Ответ дайте в квадратных сантиметрах.



68.

Найдите площадь треугольника, изображенного на клетчатой бумаге с размером клетки $1\text{ см} \times 1\text{ см}$ (см.рис.). Ответ дайте в квадратных сантиметрах.



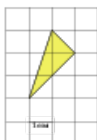
69.

Найдите площадь треугольника, изображенного на клетчатой бумаге с размером клетки $1\text{ см} \times 1\text{ см}$ (см.рис.). Ответ дайте в квадратных сантиметрах.



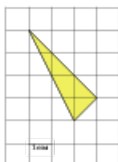
70.

Найдите площадь треугольника, изображенного на клетчатой бумаге с размером клетки $1\text{ см} \times 1\text{ см}$ (см.рис.). Ответ дайте в квадратных сантиметрах.



71.

Найдите площадь треугольника, изображенного на клетчатой бумаге с размером клетки $1\text{ см} \times 1\text{ см}$ (см.рис.). Ответ дайте в квадратных сантиметрах.




72.

Найдите площадь треугольника, изображенного на клетчатой бумаге с размером клетки $1\text{ см} \times 1\text{ см}$ (см.рис.). Ответ дайте в квадратных сантиметрах.



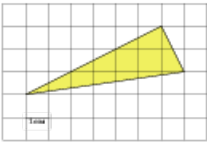
73.

Найдите площадь треугольника, изображенного на клетчатой бумаге с размером клетки $1\text{ см} \times 1\text{ см}$ (см.рис.). Ответ дайте в квадратных сантиметрах.



74.

Найдите площадь треугольника, изображенного на клетчатой бумаге с размером клетки $1\text{ см} \times 1\text{ см}$ (см.рис.). Ответ дайте в квадратных сантиметрах.



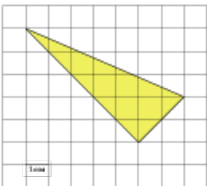
75.

Найдите площадь треугольника, изображенного на клетчатой бумаге с размером клетки $1\text{ см} \times 1\text{ см}$ (см.рис.). Ответ дайте в квадратных сантиметрах.



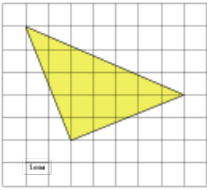
76.

Найдите площадь треугольника, изображенного на клетчатой бумаге с размером клетки $1\text{ см} \times 1\text{ см}$ (см.рис.). Ответ дайте в квадратных сантиметрах.



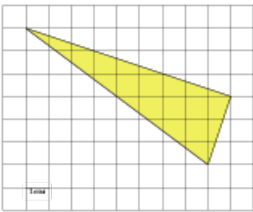
77.

Найдите площадь треугольника, изображенного на клетчатой бумаге с размером клетки $1\text{ см} \times 1\text{ см}$ (см.рис.). Ответ дайте в квадратных сантиметрах.



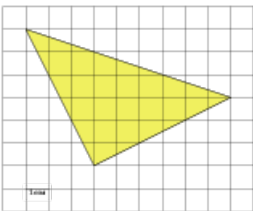
78.

Найдите площадь треугольника, изображенного на клетчатой бумаге с размером клетки $1\text{ см} \times 1\text{ см}$ (см.рис.). Ответ дайте в квадратных сантиметрах.



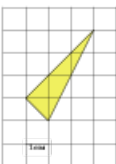
79.

Найдите площадь треугольника, изображенного на клетчатой бумаге с размером клетки $1\text{ см} \times 1\text{ см}$ (см.рис.). Ответ дайте в квадратных сантиметрах.



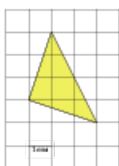
80.

Найдите площадь треугольника, изображенного на клетчатой бумаге с размером клетки $1\text{ см} \times 1\text{ см}$ (см.рис.). Ответ дайте в квадратных сантиметрах.



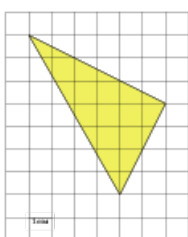
81.

Найдите площадь треугольника, изображенного на клетчатой бумаге с размером клетки $1\text{ см} \times 1\text{ см}$ (см.рис.). Ответ дайте в квадратных сантиметрах.



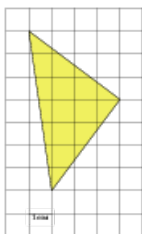
82.

Найдите площадь треугольника, изображенного на клетчатой бумаге с размером клетки $1\text{ см} \times 1\text{ см}$ (см.рис.). Ответ дайте в квадратных сантиметрах.



83.

Найдите площадь треугольника, изображенного на клетчатой бумаге с размером клетки $1\text{ см} \times 1\text{ см}$ (см.рис.). Ответ дайте в квадратных сантиметрах.



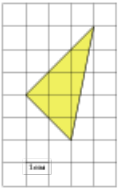
84.

Найдите площадь треугольника, изображенного на клетчатой бумаге с размером клетки $1\text{ см} \times 1\text{ см}$ (см.рис.). Ответ дайте в квадратных сантиметрах.



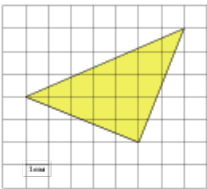
85.

Найдите площадь треугольника, изображенного на клетчатой бумаге с размером клетки $1\text{ см} \times 1\text{ см}$ (см.рис.). Ответ дайте в квадратных сантиметрах.



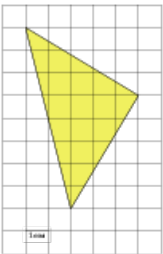
86.

Найдите площадь треугольника, изображенного на клетчатой бумаге с размером клетки $1\text{ см} \times 1\text{ см}$ (см.рис.). Ответ дайте в квадратных сантиметрах.



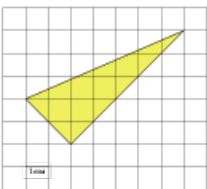
87.

Найдите площадь треугольника, изображенного на клетчатой бумаге с размером клетки $1\text{ см} \times 1\text{ см}$ (см.рис.). Ответ дайте в квадратных сантиметрах.



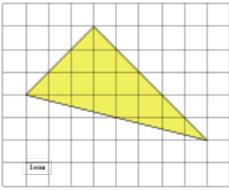
88.

Найдите площадь треугольника, изображенного на клетчатой бумаге с размером клетки $1\text{ см} \times 1\text{ см}$ (см.рис.). Ответ дайте в квадратных сантиметрах.



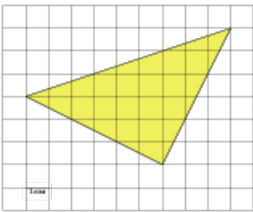
89.

Найдите площадь треугольника, изображенного на клетчатой бумаге с размером клетки $1\text{ см} \times 1\text{ см}$ (см.рис.). Ответ дайте в квадратных сантиметрах.



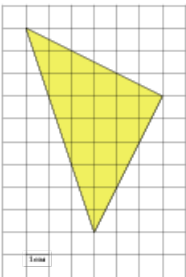
90.

Найдите площадь треугольника, изображенного на клетчатой бумаге с размером клетки $1\text{ см} \times 1\text{ см}$ (см.рис.). Ответ дайте в квадратных сантиметрах.



91.

Найдите площадь треугольника, изображенного на клетчатой бумаге с размером клетки $1\text{ см} \times 1\text{ см}$ (см.рис.). Ответ дайте в квадратных сантиметрах.



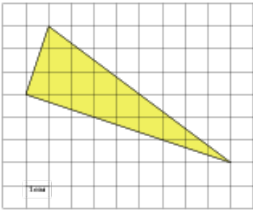
92.

Найдите площадь треугольника, изображенного на клетчатой бумаге с размером клетки $1\text{ см} \times 1\text{ см}$ (см.рис.). Ответ дайте в квадратных сантиметрах.



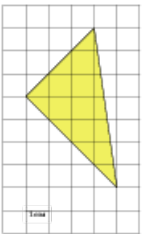
93.

Найдите площадь треугольника, изображенного на клетчатой бумаге с размером клетки 1 см × 1 см (см.рис.). Ответ дайте в квадратных сантиметрах.



94.

Найдите площадь треугольника, изображенного на клетчатой бумаге с размером клетки 1 см × 1 см (см.рис.). Ответ дайте в квадратных сантиметрах.



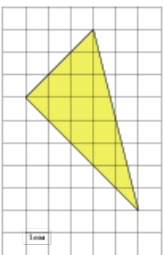
95.

Найдите площадь треугольника, изображенного на клетчатой бумаге с размером клетки 1 см × 1 см (см.рис.). Ответ дайте в квадратных сантиметрах.



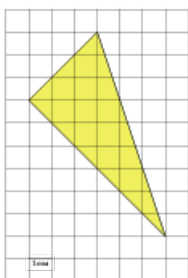
96.

Найдите площадь треугольника, изображенного на клетчатой бумаге с размером клетки 1 см × 1 см (см.рис.). Ответ дайте в квадратных сантиметрах.



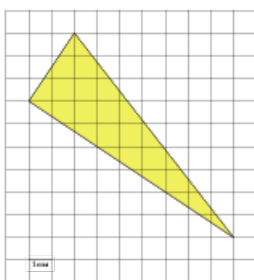
97.

Найдите площадь треугольника, изображенного на клетчатой бумаге с размером клетки $1\text{ см} \times 1\text{ см}$ (см.рис.). Ответ дайте в квадратных сантиметрах.



98.

Найдите площадь треугольника, изображенного на клетчатой бумаге с размером клетки $1\text{ см} \times 1\text{ см}$ (см.рис.). Ответ дайте в квадратных сантиметрах.



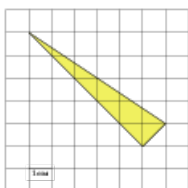
99.

Найдите площадь треугольника, изображенного на клетчатой бумаге с размером клетки $1\text{ см} \times 1\text{ см}$ (см.рис.). Ответ дайте в квадратных сантиметрах.




100.

Найдите площадь треугольника, изображенного на клетчатой бумаге с размером клетки $1\text{ см} \times 1\text{ см}$ (см.рис.). Ответ дайте в квадратных сантиметрах.



101.

Найдите площадь треугольника, изображенного на клетчатой бумаге с размером клетки $1\text{ см} \times 1\text{ см}$ (см.рис.). Ответ дайте в квадратных сантиметрах.



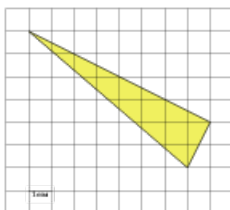
102.

Найдите площадь треугольника, изображенного на клетчатой бумаге с размером клетки $1\text{ см} \times 1\text{ см}$ (см.рис.). Ответ дайте в квадратных сантиметрах.



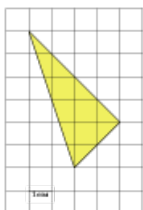
103.

Найдите площадь треугольника, изображенного на клетчатой бумаге с размером клетки $1\text{ см} \times 1\text{ см}$ (см.рис.). Ответ дайте в квадратных сантиметрах.



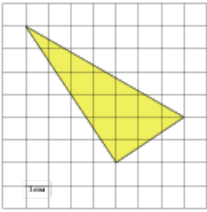
104.

Найдите площадь треугольника, изображенного на клетчатой бумаге с размером клетки $1\text{ см} \times 1\text{ см}$ (см.рис.). Ответ дайте в квадратных сантиметрах.



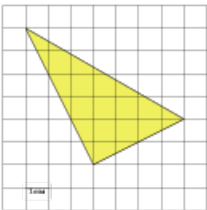
105.

Найдите площадь треугольника, изображенного на клетчатой бумаге с размером клетки $1\text{ см} \times 1\text{ см}$ (см.рис.). Ответ дайте в квадратных сантиметрах.



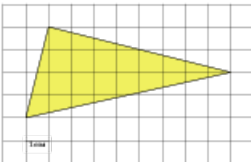
106.

Найдите площадь треугольника, изображенного на клетчатой бумаге с размером клетки $1\text{ см} \times 1\text{ см}$ (см.рис.). Ответ дайте в квадратных сантиметрах.



107.

Найдите площадь треугольника, изображенного на клетчатой бумаге с размером клетки $1\text{ см} \times 1\text{ см}$ (см.рис.). Ответ дайте в квадратных сантиметрах.



108.

Найдите площадь треугольника, изображенного на клетчатой бумаге с размером клетки $1\text{ см} \times 1\text{ см}$ (см.рис.). Ответ дайте в квадратных сантиметрах.



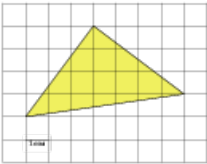
109.

Найдите площадь треугольника, изображенного на клетчатой бумаге с размером клетки $1\text{ см} \times 1\text{ см}$ (см.рис.). Ответ дайте в квадратных сантиметрах.



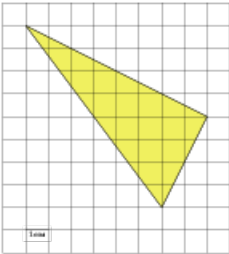
110.

Найдите площадь треугольника, изображенного на клетчатой бумаге с размером клетки $1\text{ см} \times 1\text{ см}$ (см.рис.). Ответ дайте в квадратных сантиметрах.



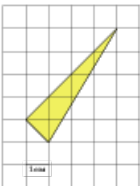
111.

Найдите площадь треугольника, изображенного на клетчатой бумаге с размером клетки $1\text{ см} \times 1\text{ см}$ (см.рис.). Ответ дайте в квадратных сантиметрах.



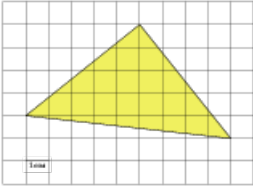
112.

Найдите площадь треугольника, изображенного на клетчатой бумаге с размером клетки $1\text{ см} \times 1\text{ см}$ (см.рис.). Ответ дайте в квадратных сантиметрах.



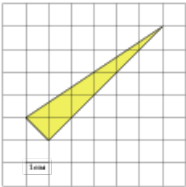
113.

Найдите площадь треугольника, изображенного на клетчатой бумаге с размером клетки $1\text{ см} \times 1\text{ см}$ (см.рис.). Ответ дайте в квадратных сантиметрах.



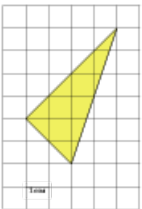
114.

Найдите площадь треугольника, изображенного на клетчатой бумаге с размером клетки $1\text{ см} \times 1\text{ см}$ (см.рис.). Ответ дайте в квадратных сантиметрах.



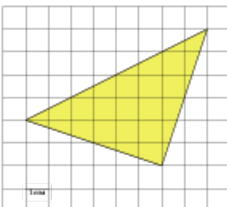
115.

Найдите площадь треугольника, изображенного на клетчатой бумаге с размером клетки $1\text{ см} \times 1\text{ см}$ (см.рис.). Ответ дайте в квадратных сантиметрах.



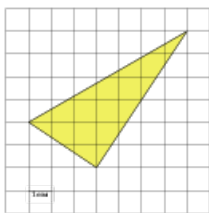
116.

Найдите площадь треугольника, изображенного на клетчатой бумаге с размером клетки $1\text{ см} \times 1\text{ см}$ (см.рис.). Ответ дайте в квадратных сантиметрах.



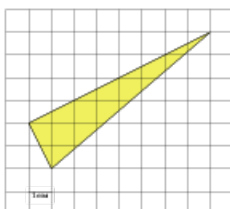
117.

Найдите площадь треугольника, изображенного на клетчатой бумаге с размером клетки $1\text{ см} \times 1\text{ см}$ (см.рис.). Ответ дайте в квадратных сантиметрах.



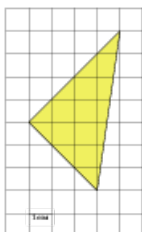
118.

Найдите площадь треугольника, изображенного на клетчатой бумаге с размером клетки $1\text{ см} \times 1\text{ см}$ (см.рис.). Ответ дайте в квадратных сантиметрах.



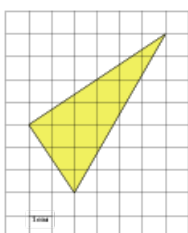
119.

Найдите площадь треугольника, изображенного на клетчатой бумаге с размером клетки $1\text{ см} \times 1\text{ см}$ (см.рис.). Ответ дайте в квадратных сантиметрах.



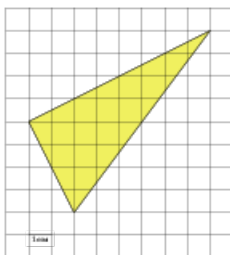
120.

Найдите площадь треугольника, изображенного на клетчатой бумаге с размером клетки $1\text{ см} \times 1\text{ см}$ (см.рис.). Ответ дайте в квадратных сантиметрах.



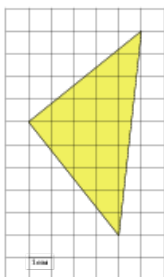
121.

Найдите площадь треугольника, изображенного на клетчатой бумаге с размером клетки $1\text{ см} \times 1\text{ см}$ (см.рис.). Ответ дайте в квадратных сантиметрах.



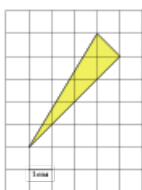
122.

Найдите площадь треугольника, изображенного на клетчатой бумаге с размером клетки $1\text{ см} \times 1\text{ см}$ (см.рис.). Ответ дайте в квадратных сантиметрах.



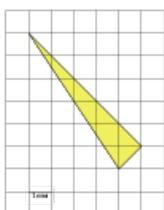
123.

Найдите площадь треугольника, изображенного на клетчатой бумаге с размером клетки $1\text{ см} \times 1\text{ см}$ (см.рис.). Ответ дайте в квадратных сантиметрах.



124.

Найдите площадь треугольника, изображенного на клетчатой бумаге с размером клетки $1\text{ см} \times 1\text{ см}$ (см.рис.). Ответ дайте в квадратных сантиметрах.



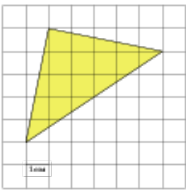
125.

Найдите площадь треугольника, изображенного на клетчатой бумаге с размером клетки $1\text{ см} \times 1\text{ см}$ (см.рис.). Ответ дайте в квадратных сантиметрах.



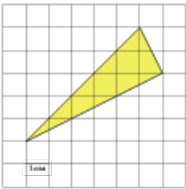
126.

Найдите площадь треугольника, изображенного на клетчатой бумаге с размером клетки $1\text{ см} \times 1\text{ см}$ (см.рис.). Ответ дайте в квадратных сантиметрах.



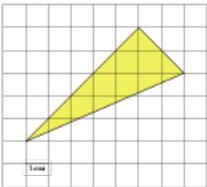
127.

Найдите площадь треугольника, изображенного на клетчатой бумаге с размером клетки $1\text{ см} \times 1\text{ см}$ (см.рис.). Ответ дайте в квадратных сантиметрах.



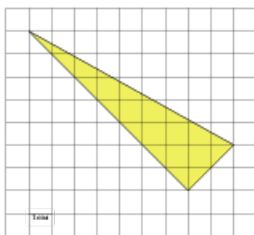
128.

Найдите площадь треугольника, изображенного на клетчатой бумаге с размером клетки $1\text{ см} \times 1\text{ см}$ (см.рис.). Ответ дайте в квадратных сантиметрах.



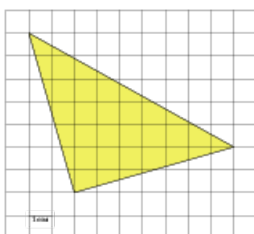
129.

Найдите площадь треугольника, изображенного на клетчатой бумаге с размером клетки $1\text{ см} \times 1\text{ см}$ (см.рис.). Ответ дайте в квадратных сантиметрах.



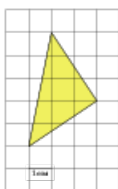
130.

Найдите площадь треугольника, изображенного на клетчатой бумаге с размером клетки $1\text{ см} \times 1\text{ см}$ (см.рис.). Ответ дайте в квадратных сантиметрах.



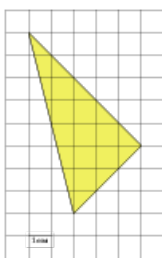
131.

Найдите площадь треугольника, изображенного на клетчатой бумаге с размером клетки $1\text{ см} \times 1\text{ см}$ (см.рис.). Ответ дайте в квадратных сантиметрах.



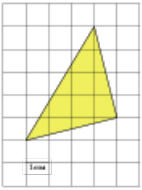
132.

Найдите площадь треугольника, изображенного на клетчатой бумаге с размером клетки $1\text{ см} \times 1\text{ см}$ (см.рис.). Ответ дайте в квадратных сантиметрах.



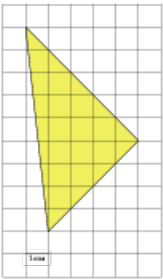
133.

Найдите площадь треугольника, изображенного на клетчатой бумаге с размером клетки $1\text{ см} \times 1\text{ см}$ (см.рис.). Ответ дайте в квадратных сантиметрах.



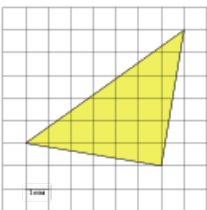
134.

Найдите площадь треугольника, изображенного на клетчатой бумаге с размером клетки $1\text{ см} \times 1\text{ см}$ (см.рис.). Ответ дайте в квадратных сантиметрах.



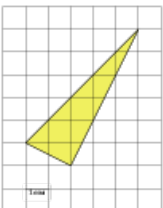
135.

Найдите площадь треугольника, изображенного на клетчатой бумаге с размером клетки $1\text{ см} \times 1\text{ см}$ (см.рис.). Ответ дайте в квадратных сантиметрах.



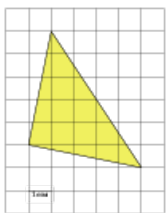
136.

Найдите площадь треугольника, изображенного на клетчатой бумаге с размером клетки $1\text{ см} \times 1\text{ см}$ (см.рис.). Ответ дайте в квадратных сантиметрах.



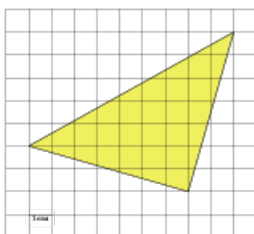
137.

Найдите площадь треугольника, изображенного на клетчатой бумаге с размером клетки $1\text{ см} \times 1\text{ см}$ (см.рис.). Ответ дайте в квадратных сантиметрах.



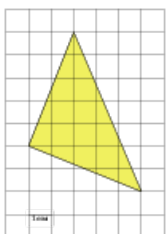
138.

Найдите площадь треугольника, изображенного на клетчатой бумаге с размером клетки $1\text{ см} \times 1\text{ см}$ (см.рис.). Ответ дайте в квадратных сантиметрах.



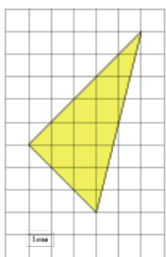
139.

Найдите площадь треугольника, изображенного на клетчатой бумаге с размером клетки $1\text{ см} \times 1\text{ см}$ (см.рис.). Ответ дайте в квадратных сантиметрах.



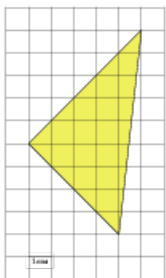
140.

Найдите площадь треугольника, изображенного на клетчатой бумаге с размером клетки $1\text{ см} \times 1\text{ см}$ (см.рис.). Ответ дайте в квадратных сантиметрах.



141.

Найдите площадь треугольника, изображенного на клетчатой бумаге с размером клетки $1\text{ см} \times 1\text{ см}$ (см.рис.). Ответ дайте в квадратных сантиметрах.



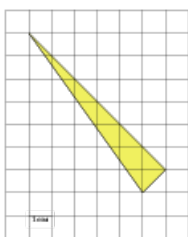
142.

Найдите площадь треугольника, изображенного на клетчатой бумаге с размером клетки $1\text{ см} \times 1\text{ см}$ (см.рис.). Ответ дайте в квадратных сантиметрах.



143.

Найдите площадь треугольника, изображенного на клетчатой бумаге с размером клетки $1\text{ см} \times 1\text{ см}$ (см.рис.). Ответ дайте в квадратных сантиметрах.



144.

Найдите площадь треугольника, изображенного на клетчатой бумаге с размером клетки $1\text{ см} \times 1\text{ см}$ (см.рис.). Ответ дайте в квадратных сантиметрах.



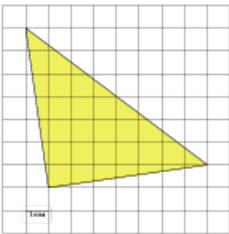
145.

Найдите площадь треугольника, изображенного на клетчатой бумаге с размером клетки $1\text{ см} \times 1\text{ см}$ (см.рис.). Ответ дайте в квадратных сантиметрах.



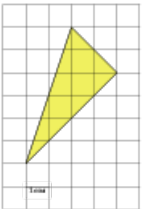
146.

Найдите площадь треугольника, изображенного на клетчатой бумаге с размером клетки $1\text{ см} \times 1\text{ см}$ (см.рис.). Ответ дайте в квадратных сантиметрах.



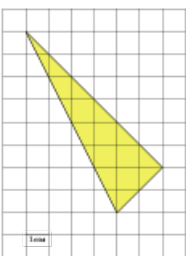
147.

Найдите площадь треугольника, изображенного на клетчатой бумаге с размером клетки $1\text{ см} \times 1\text{ см}$ (см.рис.). Ответ дайте в квадратных сантиметрах.



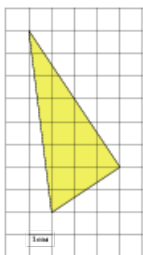
148.

Найдите площадь треугольника, изображенного на клетчатой бумаге с размером клетки $1\text{ см} \times 1\text{ см}$ (см.рис.). Ответ дайте в квадратных сантиметрах.



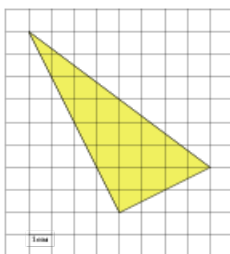
149.

Найдите площадь треугольника, изображенного на клетчатой бумаге с размером клетки $1\text{ см} \times 1\text{ см}$ (см.рис.). Ответ дайте в квадратных сантиметрах.



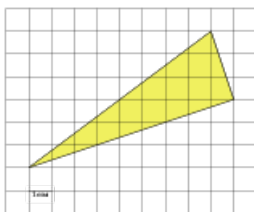
150.

Найдите площадь треугольника, изображенного на клетчатой бумаге с размером клетки $1\text{ см} \times 1\text{ см}$ (см.рис.). Ответ дайте в квадратных сантиметрах.



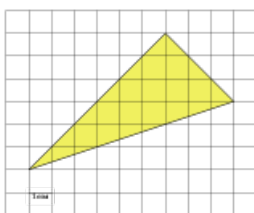
151.

Найдите площадь треугольника, изображенного на клетчатой бумаге с размером клетки $1\text{ см} \times 1\text{ см}$ (см.рис.). Ответ дайте в квадратных сантиметрах.



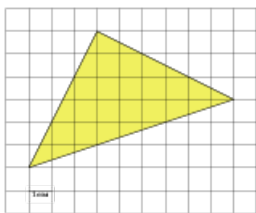
152.

Найдите площадь треугольника, изображенного на клетчатой бумаге с размером клетки $1\text{ см} \times 1\text{ см}$ (см.рис.). Ответ дайте в квадратных сантиметрах.



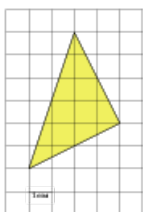
153.

Найдите площадь треугольника, изображенного на клетчатой бумаге с размером клетки $1\text{ см} \times 1\text{ см}$ (см.рис.). Ответ дайте в квадратных сантиметрах.



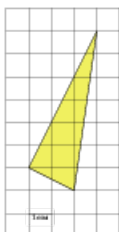
154.

Найдите площадь треугольника, изображенного на клетчатой бумаге с размером клетки $1\text{ см} \times 1\text{ см}$ (см.рис.). Ответ дайте в квадратных сантиметрах.



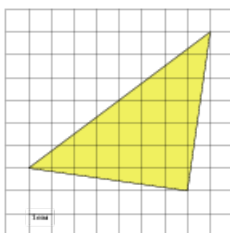
155.

Найдите площадь треугольника, изображенного на клетчатой бумаге с размером клетки $1\text{ см} \times 1\text{ см}$ (см.рис.). Ответ дайте в квадратных сантиметрах.



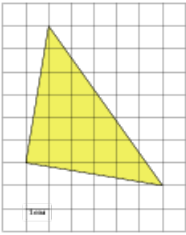
156.

Найдите площадь треугольника, изображенного на клетчатой бумаге с размером клетки $1\text{ см} \times 1\text{ см}$ (см.рис.). Ответ дайте в квадратных сантиметрах.



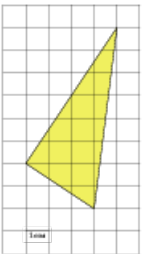
157.

Найдите площадь треугольника, изображенного на клетчатой бумаге с размером клетки $1\text{ см} \times 1\text{ см}$ (см.рис.). Ответ дайте в квадратных сантиметрах.



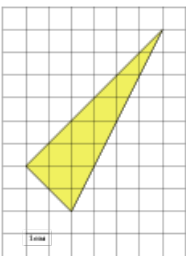
158.

Найдите площадь треугольника, изображенного на клетчатой бумаге с размером клетки $1\text{ см} \times 1\text{ см}$ (см.рис.). Ответ дайте в квадратных сантиметрах.



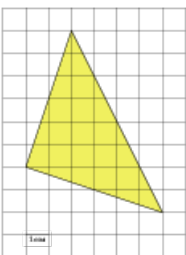
159.

Найдите площадь треугольника, изображенного на клетчатой бумаге с размером клетки $1\text{ см} \times 1\text{ см}$ (см.рис.). Ответ дайте в квадратных сантиметрах.



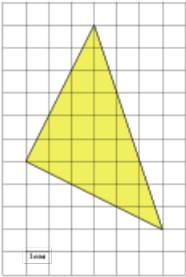
160.

Найдите площадь треугольника, изображенного на клетчатой бумаге с размером клетки $1\text{ см} \times 1\text{ см}$ (см.рис.). Ответ дайте в квадратных сантиметрах.



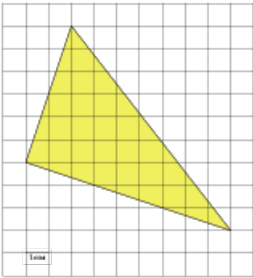
161.

Найдите площадь треугольника, изображенного на клетчатой бумаге с размером клетки $1\text{ см} \times 1\text{ см}$ (см.рис.). Ответ дайте в квадратных сантиметрах.



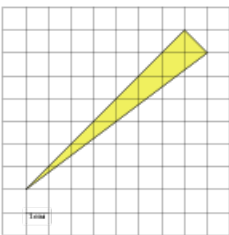
162.

Найдите площадь треугольника, изображенного на клетчатой бумаге с размером клетки $1\text{ см} \times 1\text{ см}$ (см.рис.). Ответ дайте в квадратных сантиметрах.



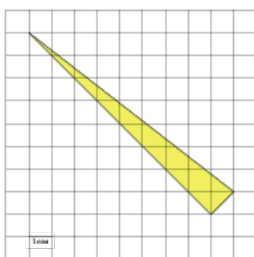
163.

Найдите площадь треугольника, изображенного на клетчатой бумаге с размером клетки $1\text{ см} \times 1\text{ см}$ (см.рис.). Ответ дайте в квадратных сантиметрах.



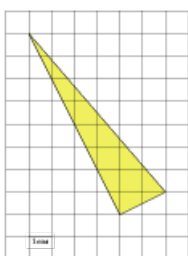
164.

Найдите площадь треугольника, изображенного на клетчатой бумаге с размером клетки $1\text{ см} \times 1\text{ см}$ (см.рис.). Ответ дайте в квадратных сантиметрах.



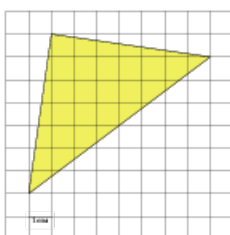
165.

Найдите площадь треугольника, изображенного на клетчатой бумаге с размером клетки $1\text{ см} \times 1\text{ см}$ (см.рис.). Ответ дайте в квадратных сантиметрах.



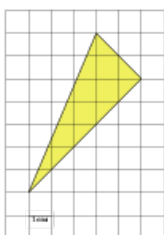
166.

Найдите площадь треугольника, изображенного на клетчатой бумаге с размером клетки $1\text{ см} \times 1\text{ см}$ (см.рис.). Ответ дайте в квадратных сантиметрах.



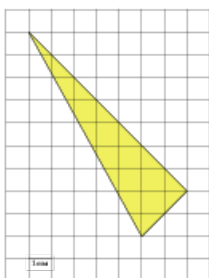
167.

Найдите площадь треугольника, изображенного на клетчатой бумаге с размером клетки $1\text{ см} \times 1\text{ см}$ (см.рис.). Ответ дайте в квадратных сантиметрах.



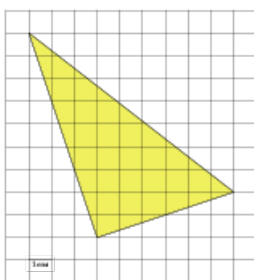
168.

Найдите площадь треугольника, изображенного на клетчатой бумаге с размером клетки $1\text{ см} \times 1\text{ см}$ (см.рис.). Ответ дайте в квадратных сантиметрах.



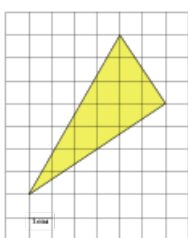
169.

Найдите площадь треугольника, изображенного на клетчатой бумаге с размером клетки $1\text{ см} \times 1\text{ см}$ (см.рис.). Ответ дайте в квадратных сантиметрах.



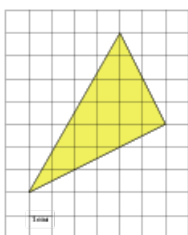
170.

Найдите площадь треугольника, изображенного на клетчатой бумаге с размером клетки $1\text{ см} \times 1\text{ см}$ (см.рис.). Ответ дайте в квадратных сантиметрах.



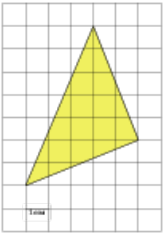
171.

Найдите площадь треугольника, изображенного на клетчатой бумаге с размером клетки $1\text{ см} \times 1\text{ см}$ (см.рис.). Ответ дайте в квадратных сантиметрах.



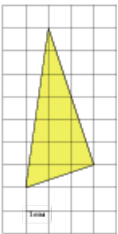
172.

Найдите площадь треугольника, изображенного на клетчатой бумаге с размером клетки $1\text{ см} \times 1\text{ см}$ (см.рис.). Ответ дайте в квадратных сантиметрах.



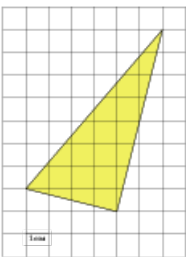
173.

Найдите площадь треугольника, изображенного на клетчатой бумаге с размером клетки $1\text{ см} \times 1\text{ см}$ (см.рис.). Ответ дайте в квадратных сантиметрах.



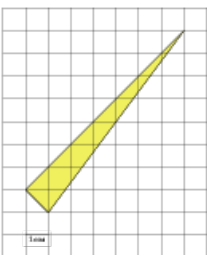
174.

Найдите площадь треугольника, изображенного на клетчатой бумаге с размером клетки $1\text{ см} \times 1\text{ см}$ (см.рис.). Ответ дайте в квадратных сантиметрах.



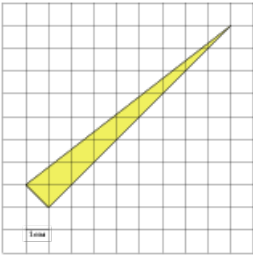
175.

Найдите площадь треугольника, изображенного на клетчатой бумаге с размером клетки $1\text{ см} \times 1\text{ см}$ (см.рис.). Ответ дайте в квадратных сантиметрах.



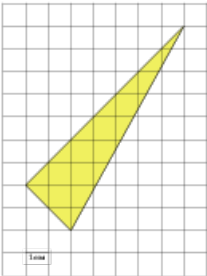
176.

Найдите площадь треугольника, изображенного на клетчатой бумаге с размером клетки $1\text{ см} \times 1\text{ см}$ (см.рис.). Ответ дайте в квадратных сантиметрах.



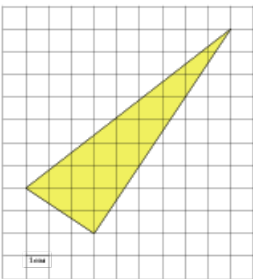
177.

Найдите площадь треугольника, изображенного на клетчатой бумаге с размером клетки $1\text{ см} \times 1\text{ см}$ (см.рис.). Ответ дайте в квадратных сантиметрах.



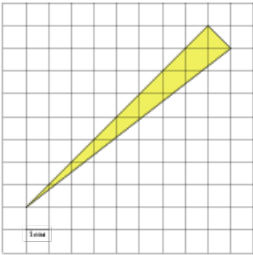
178.

Найдите площадь треугольника, изображенного на клетчатой бумаге с размером клетки $1\text{ см} \times 1\text{ см}$ (см.рис.). Ответ дайте в квадратных сантиметрах.



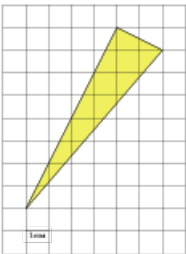
179.

Найдите площадь треугольника, изображенного на клетчатой бумаге с размером клетки $1\text{ см} \times 1\text{ см}$ (см.рис.). Ответ дайте в квадратных сантиметрах.



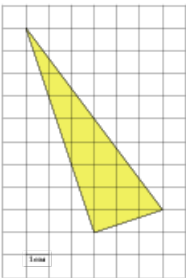
180.

Найдите площадь треугольника, изображенного на клетчатой бумаге с размером клетки $1\text{ см} \times 1\text{ см}$ (см.рис.). Ответ дайте в квадратных сантиметрах.



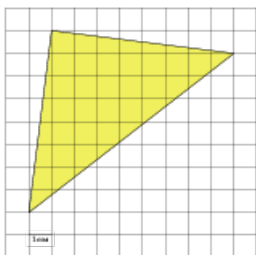
181.

Найдите площадь треугольника, изображенного на клетчатой бумаге с размером клетки $1\text{ см} \times 1\text{ см}$ (см.рис.). Ответ дайте в квадратных сантиметрах.



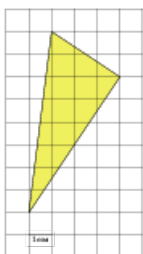
182.

Найдите площадь треугольника, изображенного на клетчатой бумаге с размером клетки $1\text{ см} \times 1\text{ см}$ (см.рис.). Ответ дайте в квадратных сантиметрах.



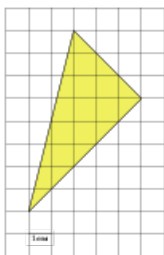
183.

Найдите площадь треугольника, изображенного на клетчатой бумаге с размером клетки $1\text{ см} \times 1\text{ см}$ (см.рис.). Ответ дайте в квадратных сантиметрах.



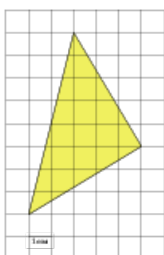
184.

Найдите площадь треугольника, изображенного на клетчатой бумаге с размером клетки $1\text{ см} \times 1\text{ см}$ (см.рис.). Ответ дайте в квадратных сантиметрах.



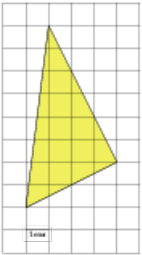
185.

Найдите площадь треугольника, изображенного на клетчатой бумаге с размером клетки $1\text{ см} \times 1\text{ см}$ (см.рис.). Ответ дайте в квадратных сантиметрах.



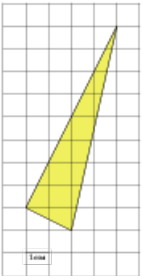
186.

Найдите площадь треугольника, изображенного на клетчатой бумаге с размером клетки $1\text{ см} \times 1\text{ см}$ (см.рис.). Ответ дайте в квадратных сантиметрах.



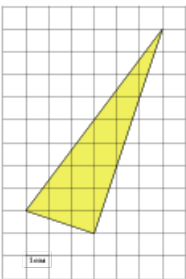
187.

Найдите площадь треугольника, изображенного на клетчатой бумаге с размером клетки $1\text{ см} \times 1\text{ см}$ (см.рис.). Ответ дайте в квадратных сантиметрах.



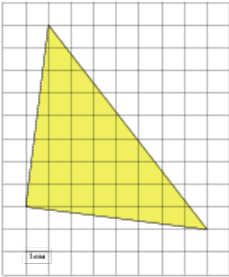
188.

Найдите площадь треугольника, изображенного на клетчатой бумаге с размером клетки $1\text{ см} \times 1\text{ см}$ (см.рис.). Ответ дайте в квадратных сантиметрах.



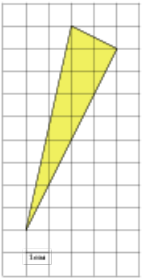
189.

Найдите площадь треугольника, изображенного на клетчатой бумаге с размером клетки $1\text{ см} \times 1\text{ см}$ (см.рис.). Ответ дайте в квадратных сантиметрах.



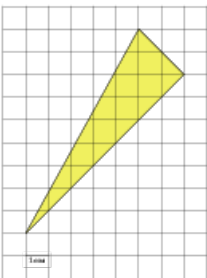
190.

Найдите площадь треугольника, изображенного на клетчатой бумаге с размером клетки $1\text{ см} \times 1\text{ см}$ (см.рис.). Ответ дайте в квадратных сантиметрах.



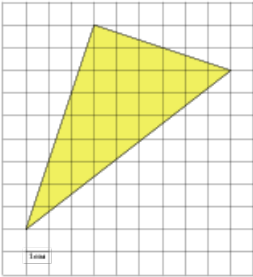
191.

Найдите площадь треугольника, изображенного на клетчатой бумаге с размером клетки $1\text{ см} \times 1\text{ см}$ (см.рис.). Ответ дайте в квадратных сантиметрах.



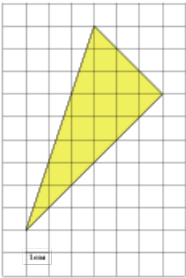
192.

Найдите площадь треугольника, изображенного на клетчатой бумаге с размером клетки $1\text{ см} \times 1\text{ см}$ (см.рис.). Ответ дайте в квадратных сантиметрах.



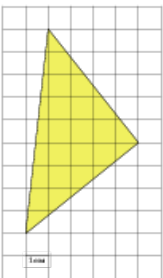
193.

Найдите площадь треугольника, изображенного на клетчатой бумаге с размером клетки $1\text{ см} \times 1\text{ см}$ (см.рис.). Ответ дайте в квадратных сантиметрах.



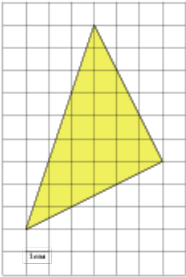
194.

Найдите площадь треугольника, изображенного на клетчатой бумаге с размером клетки $1\text{ см} \times 1\text{ см}$ (см.рис.). Ответ дайте в квадратных сантиметрах.



195.

Найдите площадь треугольника, изображенного на клетчатой бумаге с размером клетки $1\text{ см} \times 1\text{ см}$ (см.рис.). Ответ дайте в квадратных сантиметрах.



196.

Найдите площадь треугольника, изображенного на клетчатой бумаге с размером клетки $1\text{ см} \times 1\text{ см}$ (см.рис.). Ответ дайте в квадратных сантиметрах.

