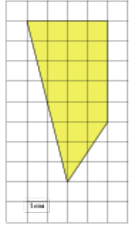


## Задания

№ [254723](#)

Найдите площадь четырехугольника, изображенного на клетчатой бумаге с размером клетки 1 см × 1 см (см. рис.). Ответ дайте в квадратных сантиметрах.



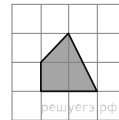
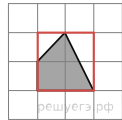
**Решение.**

Это задание ещё не решено, приводим решение прототипа.

Найдите площадь четырехугольника, изображенного на клетчатой бумаге с размером клетки 1 см × 1 см (см. рис.). Ответ дайте в квадратных сантиметрах.

Площадь четырёхугольника равна разности площади большого квадрата и двух прямоугольных треугольников, гипотенузы которых являются сторонами исходного треугольника. Поэтому

$$S = 2 \cdot 2 - \frac{1}{2} \cdot 2 \cdot 1 - \frac{1}{2} \cdot 1 \cdot 1 = 2,5 \text{ см}^2.$$



Ответ: 2,5.

[Прототип задания](#)