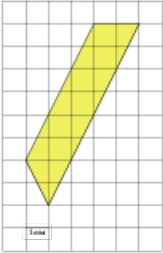


Задания

Задания ДЗ № [253945](#)

Найдите площадь трапеции, изображенной на клетчатой бумаге с размером клетки $1\text{ см} \times 1\text{ см}$ (см. рис.). Ответ дайте в квадратных сантиметрах.


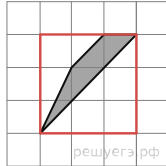


Решение.

Это задание ещё не решено, приводим решение [прототипа](#).

Найдите площадь трапеции, изображенной на клетчатой бумаге с размером клетки $1\text{ см} \times 1\text{ см}$ (см. рис.). Ответ дайте в квадратных сантиметрах.

Площадь трапеции равна разности площади большого квадрата, маленького квадрата и трех прямоугольных треугольников, гипотенузы которых являются сторонами исходного четырёхугольника. Поэтому



$$S = 3 \cdot 3 - 1 \cdot 1 - \frac{1}{2} \cdot 3 \cdot 3 - \frac{1}{2} \cdot 1 \cdot 2 - \frac{1}{2} \cdot 1 \cdot 1 = 2 \text{ см}^2.$$

[Прототип задания](#)