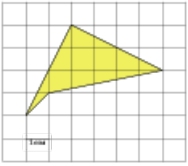


Задания**Задание 3 № 263325**

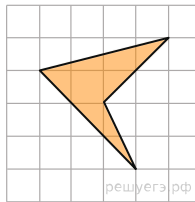
Найдите площадь четырехугольника, изображенного на клетчатой бумаге с размером клетки 1 см × 1 см (см. рис.). Ответ дайте в квадратных сантиметрах.



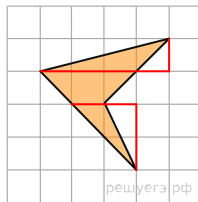
Решение.

Это задание ещё не решено, приводим решение [прототипа](#).

Найдите площадь четырехугольника, изображенного на клетчатой бумаге с размером клетки 1 см × 1 см (см. рис.). Ответ дайте в квадратных сантиметрах.



Площадь четырёхугольника состоит из площадей двух треугольников и площади трапеции. Поэтому



$$S = \frac{1}{2} \cdot 3 \cdot 1 + \frac{1}{2} \cdot (3+1) \cdot 1 + \frac{1}{2} \cdot 1 \cdot 2 = 4,5 \text{ см}^2.$$

[Прототип задания](#)