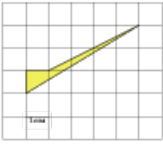


## Задания

### Задание 3 № 259195

Найдите площадь четырехугольника, изображенного на клетчатой бумаге с размером клетки 1 см × 1 см (см. рис.). Ответ дайте в квадратных сантиметрах.



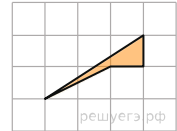
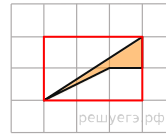
**Решение.**

Это задание ещё не решено, приводим решение прототипа.

Найдите площадь четырехугольника, изображенного на клетчатой бумаге с размером клетки 1 см × 1 см (см. рис.). Ответ дайте в квадратных сантиметрах.

Площадь четырехугольника равна разности площади большого прямоугольного треугольника, маленького прямоугольного треугольника, гипотенуза которого является стороной исходного четырехугольника и площади маленького квадрата. Поэтому

$$S = \frac{1}{2} \cdot 3 \cdot 2 - \frac{1}{2} \cdot 1 \cdot 2 - 1 \cdot 1 = 1 \text{ см}^2.$$



[Прототип задания](#)