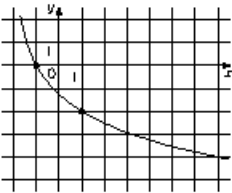
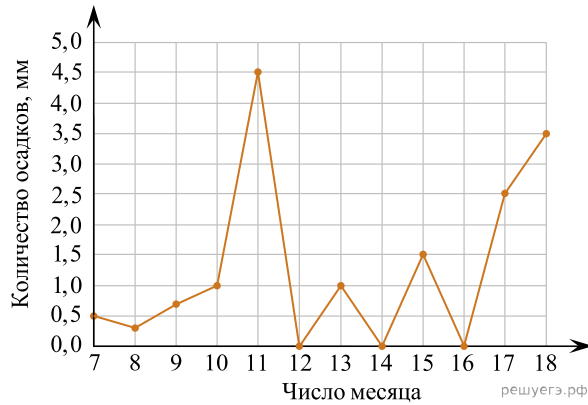


1.



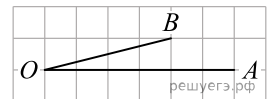
На рисунке изображён график функции $y = \log_a(x+b)$. Найдите значение x , при котором $y = -6$.

2. На рисунке жирными точками показано суточное количество осадков, выпадавших в Элисте с 7 по 18 декабря 2001 года. По горизонтали указываются числа месяца, по вертикали — количество осадков, выпавших в соответствующий день, в миллиметрах. Для наглядности жирные точки на рисунке соединены линией. Определите по рисунку, сколько дней за данный период не выпадало осадков.



3.

На клетчатой бумаге с размером клетки 1×1 изображён угол. Найдите тангенс этого угла.

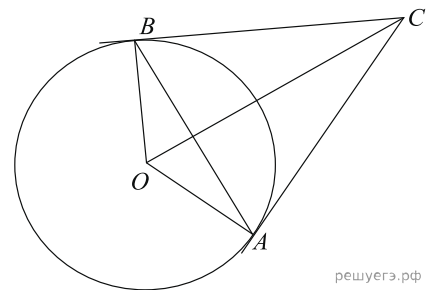


4. На конференцию приехали 6 ученых из Швейцарии, 3 из Болгарии и 6 из Австрии. Каждый из них делает на конференции один доклад. Порядок докладов определяется жеребьёвкой. Найдите вероятность того, что третьим окажется доклад ученого из Болгарии.

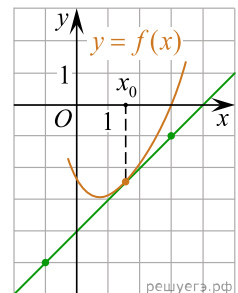
5. Найдите корень уравнения $\frac{9}{x^2 - 16} = 1$. Если уравнение имеет более одного корня, в ответе запишите больший из корней.

6.

Касательные CA и CB к окружности образуют угол ACB , равный 34° . Найдите величину меньшей дуги AB , стягиваемой точками касания. Ответ дайте в градусах.

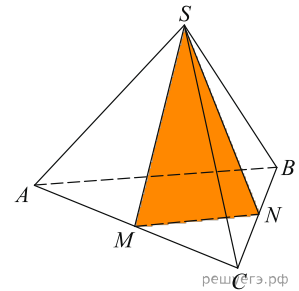


7. На рисунке изображён график функции $y = f(x)$ и касательная к нему в точке с абсциссой x_0 . Найдите значение производной функции $f(x)$ в точке x_0 .



8.

Объём треугольной пирамиды равен 94. Через вершину пирамиды и среднюю линию её основания проведена плоскость (см. рис.). Найдите объём отсечённой треугольной пирамиды.

**9.**

Найдите $21a - 14b - 20$, если $\frac{3a - 4b + 2}{4a - 3b + 2} = 6$.

10. Груз массой 0,58 кг колеблется на пружине. Его скорость u меняется по закону $v = v_0 \cos \frac{2\pi t}{T}$, где t — время с момента начала колебаний, $T = 2$ с — период колебаний, $v_0 = 2$ м/с. Кинетическая энергия E (в джоулях) груза вычисляется по формуле $E = \frac{mv^2}{2}$, где m — масса груза в килограммах, u — скорость груза в м/с. Найдите кинетическую энергию груза через 50 секунд после начала колебаний. Ответ дайте в джоулях.

11.

Бригада маляров красит забор длиной 810 метров, ежедневно увеличивая норму покраски на одно и то же число метров. Известно, что за первый и последний день в сумме бригада покрасила 180 метров забора. Определите, сколько дней бригада маляров красила весь забор.

12. Найдите наибольшее значение функции $y = (x + 6)^2(x - 10) + 8$ на отрезке $[-14; -3]$.