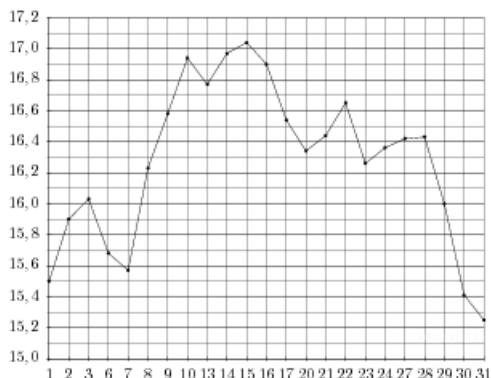


Вариант № 22164211

1. Цена на электрический чайник была повышена на 23% и составила 2337 рублей. Сколько рублей стоил чайник до повышения цены?

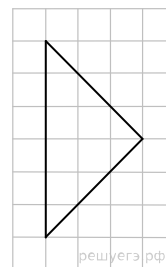
2.

На рисунке жирными точками показана цена серебра, установленная Центробанком РФ во все рабочие дни в октябре 2009 года. По горизонтали указываются числа месяца, по вертикали — цена серебра в рублях за грамм. Для наглядности жирные точки на рисунке соединены линией. Определите по рисунку, какого числа цена серебра была максимальной за данный период.



3.

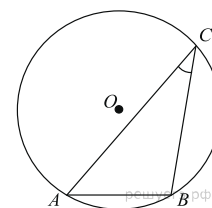
На клетчатой бумаге с размером клетки 1×1 изображён равнобедренный прямоугольный треугольник. Найдите длину его медианы, проведённой к гипотенузе.



4. В Волшебной стране бывает два типа погоды: хорошая и отличная, причём погода, установившись утром, держится неизменной весь день. Известно, что с вероятностью 0,9 погода завтра будет такой же, как и сегодня. 5 апреля погода в Волшебной стране хорошая. Найдите вероятность того, что 8 апреля в Волшебной стране будет отличная погода.

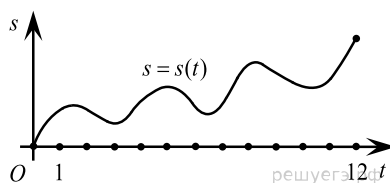
5. Найдите корень уравнения: $x^2 - 17x + 72 = 0$. Если уравнение имеет более одного корня, укажите меньший из них.

6. Найдите хорду, на которую опирается угол 30° , вписанный в окружность радиуса 43.

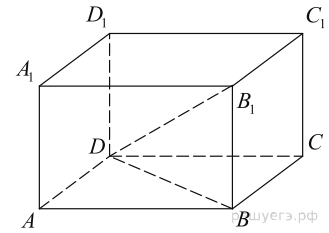


7. Материальная точка M начинает движение из точки A и движется по прямой на протяжении 12 секунд. График показывает, как менялось расстояние от точки A до точки M со временем. На оси абсцисс откладывается время t в секундах, на оси ординат — расстояние s .

Определите, сколько раз за время движения скорость точки M обращалась в ноль (начало и конец движения не учитываются).



8. В прямоугольном параллелепипеде $ABCD A_1 B_1 C_1 D_1$ известно, что $DB_1 = 19$, $A_1 B_1 = 15$, $BC = 6$. Найдите длину ребра AA_1 .



9. Найдите значение выражения $\sqrt{50} \cos^2 \frac{3\pi}{8} - \sqrt{50} \sin^2 \frac{3\pi}{8}$.

10. В телевизоре ёмкость высоковольтного конденсатора $C = 5 \cdot 10^{-6}$ Ф. Параллельно с конденсатором подключен резистор с сопротивлением $R = 4 \cdot 10^6$ Ом. Во время работы телевизора напряжение на конденсаторе $U_0 = 12$ кВ. После выключения телевизора напряжение на конденсаторе убывает до значения U (кВ) за время, определяемое выражением $t = \alpha RC \log_2 \frac{U_0}{U}$ (с), где $\alpha = 1,4$ — постоянная. Определите (в киловольтах), наибольшее возможное напряжение на конденсаторе, если после выключения телевизора прошло 28 с. Ответ дайте в киловольтах.

11. Смешав 43-процентный и 89-процентный растворы кислоты и добавив 10 кг чистой воды, получили 69-процентный раствор кислоты. Если бы вместо 10 кг воды добавили 10 кг 50-процентного раствора той же кислоты, то получили бы 73-процентный раствор кислоты. Сколько килограммов 43-процентного раствора использовали для получения смеси?

12. Найдите наибольшее значение функции $y = x^3 + 2x^2 - 4x + 4$ на отрезке $[-2; 0]$.

13. а) Решите уравнение: $36^{\sin 2x} = 6^{2 \sin x}$.

б) Найдите все корни этого уравнения, принадлежащие отрезку $\left[-\frac{7\pi}{2}; -\frac{5\pi}{2}\right]$.

14. В правильной треугольной призме $ABCA_1 B_1 C_1$ сторона основания равна 12, а боковое ребро AA_1 равно $3\sqrt{6}$. На рёбрах AB и $B_1 C_1$ отмечены точки K и L , соответственно, причём $AK = B_1 L = 3$. Точка M — середина ребра $A_1 C_1$. Плоскость γ параллельна ребру AC и содержит точки K и L .

а) Докажите, что прямая BM перпендикулярна плоскости γ .

б) Найдите расстояние от точки C до плоскости γ .

15. Решите неравенство: $3^{x^2} \leq 9 \cdot 3^x$.

16. Известно, что $ABCD$ трапеция, $AD = 2BC$, AD , BC — основания. Точка M такова, что углы ABM и MCD прямые.

а) Доказать, что $MA = MD$.

б) Расстояние от M до AD равно BC , а угол ADC равен 55° . Найдите угол BAD .

17. Известно, что вклад, находящийся в банке с начала года, возрастает к концу года на определенный процент, свой для каждого банка. В начале года Степан положил 60% некоторой суммы денег в первый банк, а оставшуюся часть суммы во второй банк. К концу года сумма этих вкладов стала равна 590 000 руб., а к концу следующего года 701 000 руб. Если бы Степан первоначально положил 60% своей суммы во второй банк, а оставшуюся часть в первый, то по истечении одного года сумма вкладов стала бы равной 610 000 руб. Какова была бы сумма вкладов в этом случае к концу второго года?

18. Найдите все значения a , при каждом из которых наименьшее значение функции $f(x) = 2ax + |x^2 - 8x + 7|$ больше 1.

19. Пусть q — наименьшее общее кратное, а d — наибольший общий делитель натуральных чисел x и y , удовлетворяющих равенству $7x = 16y - 73$.

а) Может ли $\frac{q}{d}$ быть равным 204?

б) Может ли $\frac{q}{d}$ быть равным 2?

в) Найдите наименьшее значение $\frac{q}{d}$.