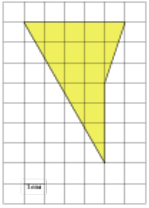


## Задания

### Задание 3 № 261521

Найдите площадь четырехугольника, изображенного на клетчатой бумаге с размером клетки 1 см × 1 см (см. рис.). Ответ дайте в квадратных сантиметрах.



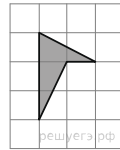
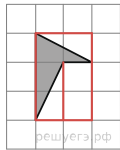
**Решение.**

Это задание ещё не решено, приводим решение прототипа.

Найдите площадь четырехугольника, изображенного на клетчатой бумаге с размером клетки 1 см × 1 см (см. рис.). Ответ дайте в квадратных сантиметрах.

Площадь четырёхугольника равна разности площади большого прямоугольника, маленького прямоугольника и двух прямоугольных треугольников, гипотенузы которых являются сторонами исходного четырёхугольника. Поэтому

$$S = 2 \cdot 3 - \frac{1}{2} \cdot 1 \cdot 2 - \frac{1}{2} \cdot 1 \cdot 2 - 1 \cdot 2 = 2 \text{ см}^2.$$



**Примечание.**

Заданный четырёхугольник можно рассматривать как два прямоугольных треугольника с катетами 1 и 2, которые, приложив их гипотенузы друг к другу, можно сложить в прямоугольник со сторонами 1 и 2, площадь которого равна 2.

[Прототип задания](#)